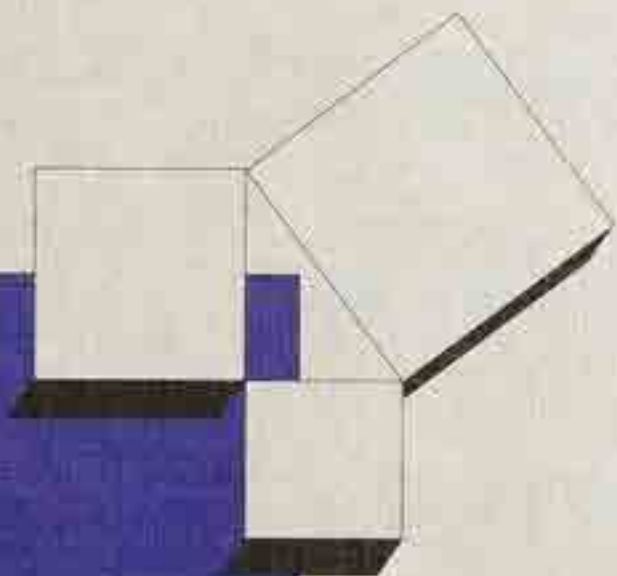


H. Stöcker (Hrsg.)

Analysis
für Ingenieur-
studenten
Band 2



Verlag Harri Deutsch

Horst Stöcker (Hrsg.)
Siegfried Fuchs
Jens Konopka
Manfred Schneider

Analysis für Ingenieurstudenten Band 2

Mit 177 Aufgaben und Lösungen
sowie 138 Abbildungen



**Verlag Harri Deutsch
Thun und Frankfurt am Main**

Professor Dr. Horst Stöcker (Hrsg.), Johann Wolfgang Goethe-Universität Frankfurt am Main
Professor Dr. Siegfried Fuchs, Dresden
Dr. Jens Konojka, Johann Wolfgang Goethe-Universität Frankfurt am Main
Professor Dr. Manfred Schneider, Chemnitz

Die Deutsche Bibliothek - CIP-Eintragsaufnahme

Analysis für Ingenieurstudenten / Horst Stöcker (Hrsg.) ;
Siegfried Fuchs, ... ; Thun : Frankfurt am Main : Deutsch,
NB: Stöcker, Horst (Hrsg.) ; Fuchs, Siegfried ;
Bd. 2. Mit 177 Aufgaben und Lösungen. - 1996.
ISBN 3-8171-1340-4

ISBN 3-8171-1340-4

Dieses Werk ist urheberrechtlich geschützt.

Alle Rechte, auch die der Übersetzung, des Nachdruckes und der Vervielfältigung des Buches - oder von Teilen daraus - sind vorbehalten.

Kein Teil des Werkes darf ohne schriftliche Genehmigung des Verlages in irgendeiner Form (Fotokopie, Mikrofilm oder ein anderes Verfahren), auch nicht für Zwecke der Unterrichtsgestaltung, reproduziert oder unter Verwendung elektronischer Systeme verarbeitet, weiter-

gegeben, verbreitet oder in sonstiger Weise öffentlich zugänglich gemacht werden.

Der Inhalt des Werkes wurde sorgfältig erarbeitet. Dennoch übernehmen Autoren, Herausgeber und Verlag für die Richtigkeit von Angaben, Hinweisen und Ratschlägen sowie für eventuelle Druckfehler keine Haftung.

© Verlag Harrt Deutsch, Thun und Frankfurt am Main, 1996
Druck: Fuldaer Verlagsanstalt GmbH
Printed in Germany

Vorwort

Die Lehrbuchreihe mit **Analysis** (Band 1 und 2) sowie **Lineare Algebra und Optimierung, Wahrscheinlichkeitsrechnung und Statistik** ist aus unseren Knavorlesungen „**Mathematik für Naturwissenschaftler und Ingenieure**“ an Fachhochschulen und Universitäten entwickelt worden.

Der vorliegende zweite Band hilft den Studierenden der Anlaufsemester in den Studiengängen der Naturwissenschaften und Technik zu lernen, die Differential- und Integralrechnung von Funktionen mit mehreren Variablen, Vektoralgebra und -analysis, Reihen und Differentialgleichungen sowie Laplace- und Fouriertransformationen intelligenter zur Lösung eines breiten Spektrums von mathematischen und physikalisch-technischen Problemen einzusetzen.

Um die unterschiedliche Vorbildung der Studierenden für die Hochschulmathematik zu überbrücken, haben wir im ersten Band mit Funktionen einer Variablen, Differentialrechnung und Integralrechnung mit einer Variablen die wichtigsten Voraussetzungen der Schulmathematik knapp, aber komplett wiederholt. Die Leser sollen vor dem Einstieg in den Band **Analysis 2** zuerst anhand von **Testübungsaufgaben** aus dem Band **Analysis 1** ihre individuellen Vorkenntnisse beurteilen.

Die mathematischen **Sätze, Regeln und Definitionen** sind ungeschwätch erläutert und anhand von Beispielen verdeutlicht. Auf komplizierte **Beweise** wurde weitgehend verzichtet.

Hundertn von erprobten **Beispielen und Übungsaufgaben mit Lösungen** helfen dem Studierenden, das Erlernete zu üben und seine Fähigkeiten zu testen. Die Bewältigung des Übungsstoffes sollte wesentlicher Bestandteil der Arbeit des Studierenden mit diesem Werk sein.

Die ausführlichen Beispiele im Text sind so ausgewählt, daß der Studierende optimal vom Nachvollziehen des Lösungsweges profitiert.

Zahlreiche Übungsaufgaben verschiedener Schwierigkeitsgrade helfen dem Studierenden, Vertrauen in seine Problemlösungsfähigkeit zu gewinnen. Es wird trainiert, ohne fertiges Rezept auch komplexere Aufgaben zu meistern.

Lösungen zu den Übungsaufgaben stehen im Anhang des Buches (Teil VI) zur Verfügung.

Für alle Abbildungen wurden **Computergrafik-Programme** benutzt. Funktionen und Kurven wurden mit hochauflösender Grafik erstellt.

Computeralgebra- und Numerik-Programmpakete wie „**MATHEMATICA**“, „**MATHCAD**“, „**MAPLE**“ und andere unterstützen die Anwendung der Hochschulmathematik in Naturwissenschaft und Technik in zunehmendem Maße.

Das **Verständnis** der diesen Computermethoden unterliegenden Mathematik ist wichtig. Auch für selbstentwickelte Programme zur Lösung von Problemen mit wachsender Komplexität, mit denen man sich sowohl als Student als auch in der beruflichen Praxis auseinandersetzen muß, sind Kenntnisse der Numerik unerlässlich. Diese Methoden sind am Ende der jeweiligen Teile vorgestellt.

Programme im PASCAL-Quelltext erleichtern den Lesern die praktische Arbeit auf dem Computer.

Diese Numerik-Abschnitte sind mit einem Stern (*) gekennzeichnet.

Folgende **Strukturierungselemente** wurden am linken Rand eingesetzt:

- Sätze und Regeln,
- Definitionen,
- ▢ Beispiele,
- ▷ wichtige Hinweise.

Funktionen, Differential- und Integralrechnung mit einer Variablen sind in dieser Reihe im Band **Analysis I** behandelt.

Band 3 enthält die Kapitel **Lineare Algebra und Optimierung, Wahrscheinlichkeitsrechnung und Statistik**.

Als ausführliches, auf den Inhalt dieser Reihe abgestimmtes **Nachschlagewerk** empfehlen wir das „**Taschenbuch mathematischer Formeln und moderner Verfahren**“ von H. Stöcker (Hrsg.), Verlag Harri Deutsch, sowie ergänzend dazu die CD-Rom „**Mathematik auf Disc**“ mit zahlreichen zusätzlichen Beispielen und weiterführenden modernen Methoden.

Verlag Harri Deutsch und Autoren

Gräfstr. 47/51

60486 Frankfurt am Main

FAX: 069-7073739

E-mail: verlag@harr-deutsch.de

<http://www.Germany.EU.net/shop/HD/verlag/>

Inhaltsverzeichnis

I Funktionen mehrerer unabhängiger Variablen	I
1 Funktionen mehrerer unabhängiger Variablen	1
1.1 Grundlagen	1
1.1.1 Funktionsbegriff	2
1.1.2 Einteilung und Darstellungsarten	5
1.2 Analytische und tabellarische Darstellung	6
1.2.1 Analytische Darstellung	6
1.2.2 Tabellarische Darstellung	8
1.3 Geometrische Darstellung	10
1.3.1 Räumliches kartesisches Koordinatensystem	11
1.3.2 Zylinderkoordinatensystem	16
1.3.3 Kugelkoordinatensystem	22
1.4 Nomographische Darstellung*	26
1.4.1 Funktionsskalen und Funktionsnetze	26
1.4.2 Fluchblimentafeln	30
1.4.3 Netztafeln	34
1.5 Grenzwerte und Stetigkeit	37
1.5.1 Grenzwertbegriff	37
1.5.2 Stetigkeitsbegriff	39
2 Differentialrechnung für Funktionen zweier unabhängiger Variablen	40
2.1 Partielle Ableitungen und totales Differential	40
2.1.1 Partielle Ableitungen erster Ordnung	40
2.1.2 Partielle Ableitungen zweiter Ordnung	42
2.1.3 Totales Differential	43
2.1.4 Differentiale höherer Ordnung	45
2.2 Differentiationsregeln	46
2.3 Extrema ohne und mit Nebenbedingungen	47
2.3.1 Relative Extrema ohne Nebenbedingungen	47

2.3.2	Relative Extrema mit Nebenbedingungen	49
2.4	Grundlagen der Fehler- und Ausgleichsrechnung*	53
2.4.1	Fehlerrechnung	54
2.4.2	Ausgleichsrechnung	60
3	Integralrechnung für Funktionen zweier unabhängiger Variablen	70
3.1	Parameterintegrale	70
3.1.1	Definition und geometrische Deutung	70
3.1.2	Spezialfälle	71
3.1.3	Die Funktion $\mathcal{L}\{f(x)\}$	72
3.1.4	Differenziation von Parameterintegralen	73
3.2	Mehrfachintegrale	74
3.2.1	Doppelintegrale	74
3.2.2	Dreifachintegrale	77
3.3	Flächen- und Raumintegrale	79
3.3.1	Flächenintegrale	79
3.3.2	Raumintegrale	85
3.4	Kurvenintegrale	94
3.4.1	Kurvenintegrale erster Art	94
3.4.2	Kurvenintegrale zweiter Art	102
4	Aufgaben zum Teil I	107
II	Vektorrechnung	114
5	Vektoralgebra	114
5.1	Vektoren und Skalare	114
5.2	Rechenoperationen mit Vektoren	116
5.3	Rechenoperationen in Komponentendarstellung	124
5.4	Skalares und vektorielles Produkt in Komponentendarstellung	132
5.4.1	Skalares Produkt	132
5.4.2	Vektorielles Produkt	135

6	Vektoranalysis	141
6.1	Vektorfunktionen	141
6.2	Skalares und vektorielles Feld	142
6.2.1	Skalares Feld	143
6.2.2	Vektorielles Feld	144
6.3	Differentiation und Integration von Vektorfunktionen	146
6.3.1	Ableitung einer Vektorfunktion	146
6.3.2	Integration einer Vektorfunktion	150
6.4	Gradient und Richtungsableitung eines skalaren Feldes	151
6.4.1	Gradient	151
6.4.2	Richtungsableitung	154
6.4.3	Differentialoperatoren	155
6.5	Konservatives Feld und Potential	156
6.5.1	Linienintegrale in vektoriellem Form	156
6.5.2	Konservatives Feld und sein Potential	158
6.6	Divergenz und Rotation eines Vektorfeldes	160
6.6.1	Divergenz	160
6.6.2	Rotation	162
6.6.3	Zusammengesetzte Ausdrücke von Gradient, Divergenz und Rotation	164
6.7	Oberflächenintegrale	166
6.7.1	Oberflächenintegrale erster Art	166
6.7.2	Oberflächenintegrale zweiter Art	170
6.7.3	Volumenableitungen	173
6.8	Integralsätze	174
6.8.1	Integralsatz von Gauß	175
6.8.2	Integralsatz von Stokes	176
6.8.3	Greensche Formeln	178
7	Aufgaben zum Teil II	181
III	Unendliche Reihen	188
8	Unendliche Zahlenreihen	188
8.1	Definition und Konvergenz	188

8.2	Konvergenzkriterien	191
8.3	Eigenschaften	196
8.4	Spezielle Zahlenreihen und Fehlerabschätzungen	198
9	Potenzreihen	201
9.1	Grundlagen	201
9.2	Definition und Konvergenz von Potenzreihen	202
9.3	Eigenschaften konvergenter Potenzreihen	204
9.4	Potenzreihenentwicklung von Funktionen	207
9.5	Anwendungen	210
10	Fourier-Reihen	215
10.1	Entwicklung von Funktionen mit der Periode 2π in eine Fourier-Reihe	215
10.2	Entwicklung von Funktionen mit beliebiger Periode T in eine Fourier-Reihe*	218
10.3	Fourier-Reihen in spektraler und komplexer Darstellung	221
10.4	Numerische harmonische Analyse*	224
11	Aufgaben zum Teil III	227
IV	Gewöhnliche Differentialgleichungen	234
12	Grundlagen	234
12.1	Definition und Einteilung	234
12.2	Aufstellen einer Differentialgleichung	236
12.3	Lösungsbegriff	238
12.4	Anfangs- und Randwertaufgaben	239
12.5	Geometrische Interpretation der Lösung	240
12.6	Über Lösungsmethoden	243
13	Differentialgleichungen erster Ordnung	244
13.1	Lineare Differentialgleichungen	244
13.1.1	Integration der homogenen Differentialgleichung	244
13.1.2	Integration der inhomogenen Differentialgleichung durch Variation der Konstanten	245
13.1.3	Spezielle Lösungsmethoden für die inhomogene Differentialgleichung	248

13.2	Spezielle Differentialgleichungen erster Ordnung	161
13.2.1	Integration durch Trennung der Variablen	161
13.2.2	Integration durch Substitution	162
13.2.3	Exakte Differentialgleichung und integrierender Faktor	165
13.3	Numerische Lösungsverfahren*	168
13.3.1	Streckenzugverfahren von Euler	168
13.3.2	Verfahren von Heun	169
13.3.3	Modifiziertes Euler-Verfahren	162
13.3.4	Runge-Kutta-Verfahren	163
13.3.5	Dormand-Prince-Verfahren	165
14	Differentialgleichungen zweiter Ordnung	170
14.1	Spezialfälle	171
14.2	Lineare Differentialgleichungen	173
14.2.1	Sätze für Lösungen linearer Differentialgleichungen	174
14.3	Lineare Differentialgleichungen mit konstanten Koeffizienten	176
14.3.1	Lineare homogene Differentialgleichungen	176
14.3.2	Lineare inhomogene Differentialgleichungen	181
15	Differentialgleichungen höherer Ordnung und Systeme von Differentialgln.	186
15.1	Allgemeine Aussagen	186
15.1.1	Definitionen und Sätze	186
15.1.2	Lineare Systeme	189
15.2	Systeme von linearen Differentialgleichungen mit konstanten Koeffizienten	190
15.2.1	Lineare homogene Systeme	190
15.2.2	Lineare inhomogene Systeme	193
15.3	Näherungsverfahren zur Lösung von Differentialgleichungssystemen*	194
15.3.1	Runge-Kutta-Verfahren	194
15.3.2	Lösung durch Potenzreihen	196
16	Aufgaben zum Teil IV	198
V	Integraltransformationen	306
17	Allgemeines über Integraltransformationen	306

Teil I

Funktionen mehrerer unabhängiger Variablen, ihre Differentiation und Integration

1 Funktionen mehrerer unabhängiger Variablen

Ausgehend von den Darstellungen über Funktionen einer unabhängigen Variablen im 1. Band werden in diesem Abschnitt Grundbegriffe über Funktionen mehrerer, insbesondere zweier unabhängiger Variablen eingeführt.

1.1 Grundlagen

Im 1. Band wurden Funktionen einer unabhängigen Variablen betrachtet und damit eindeutige Zuordnungen von Elementen einer Menge X , den Elementen des Definitionsbereiches, zu Elementen einer Menge Y , den Elementen des Wertebereiches, untersucht. Gleichbedeutend damit ist, daß den Werten der unabhängigen Variablen x durch eine Vorschrift je ein Wert der abhängigen Variablen y zugeordnet wurde.

Zur Beschreibung von zahlreichen Zuständen und Prozessen, insbesondere im naturwissenschaftlichen und technischen Bereich, reichen diese mathematischen Hilfsmittel nicht aus; vielmehr treten oft mehrere unabhängige Variablen auf, denen durch eine Vorschrift eindeutig ein Funktionswert zugeordnet wird.

- (B) Das Volumen V eines Kreiskegels ist eine Funktion seines Radius r und seiner Höhe h , ausgedrückt durch

$$V(r, h) = \frac{\pi h}{3} r^2$$

- (B) Für einen Kegelstumpf mit r_1 als Radius der Grundfläche und r_2 als Radius der Deckfläche sowie der Höhe h ist das Volumen eine Funktion von drei unabhängigen Variablen. Sie lautet

$$V(r_1, r_2, h) = \frac{\pi h}{3} (r_1^2 + r_1 r_2 + r_2^2)$$

- B) Für einen elektrischen Stromkreis mit dem Widerstand R und der Stromstärke I wird die Spannung U nach dem Ohmschen Gesetz

$$U = R \cdot I$$

ausgedrückt. Damit kann eine der drei Größen berechnet werden, wenn die beiden anderen bekannt sind.

Bei einer Reihenschaltung von n ohmschen Widerständen R_1, R_2, \dots, R_n wird der Gesamtwiderstand durch

$$R = R_1 + R_2 + \dots + R_n$$

ausgedrückt. Im Falle variabler R_i ($i = 1, 2, \dots, n$) ist R eine Funktion dieser n unabhängigen Variablen.

1.1.1 Funktionsbegriff

Im allgemeinen sind die Abhängigkeiten umfangreich und vielfältig. So ist z. B. die Fahrgeschwindigkeit eines Autos nicht nur von der Stellung des Gashebels und des eingewählten Ganges, sondern auch von der Straßelage, den Windverhältnissen, der Motortemperatur, dem Kraftstoff, der Automasse und vielen weiteren mehr oder weniger einflußreichen festen Größen und Variablen abhängig.

Daraus ist ersichtlich, daß der eingangs wiederholte Funktionsbegriff zu erweitern ist. Dabei beschränken wir uns vorgehend auf zwei unabhängige Variablen, wodurch eine geometrische Veranschaulichung der Zusammenhänge möglich wird.

Eine **Funktion f von zwei unabhängigen Variablen** ist eine eindeutige Abbildung, bei der jedem geordneten Paar (x_1, x_2) des Definitionsbereiches $D(f)$ ein Funktionswert y des Wertebereiches $W(f)$ zugeordnet wird.

In Zeichen:

$$f = \{(x_1, x_2, y) | y = f(x_1, x_2)\}$$

Verallgemeinerung:

Eine Verallgemeinerung dieser Erklärung auf Funktionen mit n unabhängigen Variablen ist ohne zusätzliche Erläuterungen sofort möglich. Bei n unabhängigen Variablen gilt:

$$f = \{(x_1, x_2, \dots, x_n, y) | y = f(x_1, x_2, \dots, x_n)\}$$

Im folgenden werden nur solche Funktionen betrachtet, deren Definitions- und Wertebereich Mengen reeller Zahlen sind, d. h. reelle Funktionen mit reellen Variablen.

Bezeichnungen:

In Anlehnung an die mit x, y, z bezeichneten Koordinatenachsen eines dreidimensionalen Raumes ist es zweckmäßig, bei Beschränkung auf Funktionen mit zwei unabhängigen Variablen, diese mit x und y sowie die abhängige Variable mit z zu bezeichnen. Damit kann der funktionale Zusammenhang durch

$$z = f(x, y)$$

ausgedrückt werden.

Wir wollen an dieser (oder einer ähnlichen) Bezeichnungsweise, wie $z = u(x, y)$, im folgenden weitgehend festhalten.

In Analogie zur Bezeichnungsweise bei Funktionen einer unabhängigen Variablen werden hierbei x und y die **Argumente der Funktion** z genannt. Die Menge aller möglichen Paare (x, y) , denen ein Funktionswert z zugeordnet ist, bilden den Definitionsbereich $D(f)$ der Funktion f . Mit $(x_0, y_0) \in D(f)$ bezeichnet $f(x_0, y_0)$ den speziellen Wert z_0 , den die Funktion an der Stelle (x_0, y_0) annimmt. Deutet man (x_0, y_0) als Koordinaten des Punktes P' in der x, y -Ebene, so bedeutet dies, daß f durch $P(x_0, y_0, z_0)$, d. h. durch einen Punkt im dreidimensionalen Raum, \mathbb{R}_3 genannt, graphisch veranschaulicht wird (s. Abb. 1.1).

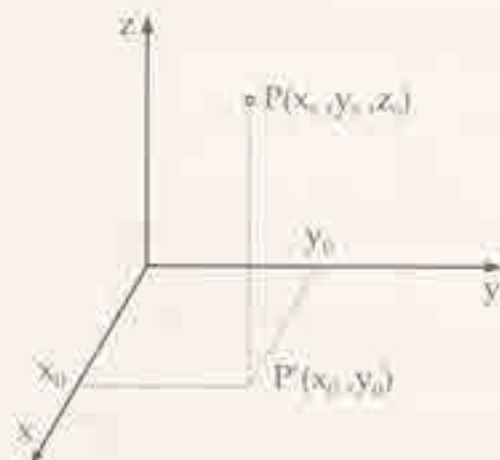


Abb. 1.1:
Veranschaulichung von $z_0 = f(x_0, y_0)$

Im eindimensionalen Fall ist der Definitionsbereich durch eine lineare Gleichung oder Ungleichung für die unabhängige Variable in Form eines endlichen oder unendlichen Intervalls, z. B. durch $a < x \leq b$, $a \leq x < \infty$ oder $x = a$, für $i = 1, 2, \dots, n$, charakterisiert. Der Definitionsbereich für eine Funktion von zwei unabhängigen Variablen kann durch eine zweidimensionale Erweiterung des Intervallbegriffs beschrieben werden. Dabei werden mehrere Fälle unterschieden.

Fallunterscheidungen im zweidimensionalen Fall:

- (1) Einem abgeschlossenen Intervall entspricht geometrisch ein Bereich der x, y -Ebene mit Rand. I. allg. verwendet man einen Rechtecksbereich: $\{(x, y) \mid a \leq x \leq b, c \leq y \leq d\}$.
- (2) Einem offenen Intervall entspricht ein Bereich der x, y -Ebene ohne Rand. Es wird Gebiet genannt. Ein Rechtecksgelbiet wird durch $\{(x, y) \mid a < x < b, c < y < d\}$ beschrieben.
- (3) Anstelle einer Punktmenge auf einer Zahlengeraden als Definitionsbereich einer Funktion einer unabhängigen Variablen, einer diskreten Variablen, tritt eine Menge von sogenannten Gitterpunkten in der Zahlenebene als Definitionsbereich einer Funktion zweier unabhängiger Variablen.

Im folgenden werden einige typische Definitionsbereiche für eine Funktion $z = f(x, y)$ als Beispiele angeführt.

[B] Durch

$$x \geq 0, y \geq 0$$

ist der 1. Quadrant einschließlich Abszissen- und Ordinatenachsen als Definitionsbereich charakterisiert. Ihm gehören alle geordneten Wertepaare (x, y) mit nicht negativen $x, y \in \mathbb{R}$ an (s. Abb. 1.2).

[B] Die Ungleichungen

$$a_1 \leq x \leq a_2$$

$$b_1 \leq y \leq b_2$$

bestimmen als Definitionsbereich ein Rechteck mit den Ecken (a_1, b_1) , (a_2, b_1) , (a_2, b_2) , (a_1, b_2) einschließlich der Berandung (s. Abb. 1.3).



Abb. 1.2: $x \geq 0, y \geq 0$

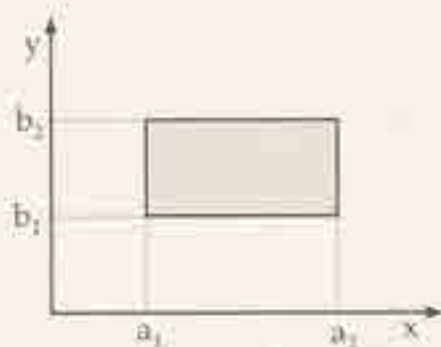


Abb. 1.3: $a_1 \leq x \leq a_2, b_1 \leq y \leq b_2$

[B] Die nicht lineare Ungleichung

$$x^2 + y^2 < 1$$

stellt die Kreisfläche des Mittelpunktkreises mit dem Radius 1 (ohne Kreisrand) als Definitionsbereich dar (s. Abb. 1.4).

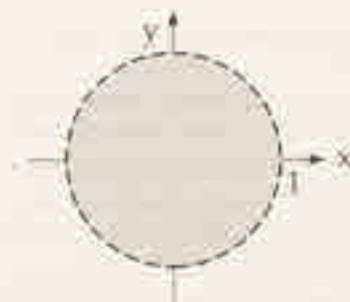


Abb. 1.4: $x^2 + y^2 < 1$

[B] Die Menge von Wertepaaren

$$\{(a_n, m) = \{a_n = n, y_n = m \mid n = 1, 2, \dots, 5; m = 1, 2, 3\}$$

kann durch Gitterpunkte im 1. Quadranten veranschaulicht werden (s. Abb. 1.5) und Definitionsbereich einer Funktion $z = f(x_n, y_n)$ sein.




Abb. 1.5: Punkte
 $\{(a_n = n, y_n = m) \mid$
 $n = 1, 2, \dots, 5;$
 $m = 1, 2, 3\}$

1.1.2 Einteilung und Darstellungsarten

Die **Einteilung** von Funktionen mehrerer unabhängiger Variablen kann durch eine Charakterisierung der Abhängigkeit von den einzelnen unabhängigen Variablen erfolgen. So ist die Funktion

$$f(r, h) = \frac{h\pi}{3} r^2$$

bezüglich h eine lineare und bezüglich r eine quadratische Funktion.

Die **gebräuchlichste Darstellungsart** ist die **analytische Darstellung**. Analog wie bei Funktionen einer unabhängigen Variablen kann diese Darstellungsart in expliziter, impliziter oder in Parameterform erfolgen.

Weitere Darstellungsarten, die sich besonders für Funktionen mit zwei unabhängigen Variablen eignen, sind:

- (1) Die **tabellarische Darstellung** in Form einer Funktions- oder Wertetabelle. Sie findet vor allem Anwendung, wenn der Definitionsbereich der Funktion aus einer endlichen Anzahl von Wertepaaren besteht oder wenn Funktionswerte für ausgewählte Wertepaare des Definitionsbereiches von Interesse sind.
- (2) Die **geometrische Darstellung** in Form einer Fläche im Raum, die entsteht, wenn jedem Wert des Definitionsbereiches genau ein Funktionswert zugeordnet und damit bei einer Funktion von zwei unabhängigen Variablen jedem geordneten Tripel (x, y, z) eindeutig ein Punkt im \mathbb{E}_3 zugeordnet wird. Ihr Vorteil ist die Anschaulichkeit, ihr Nachteil die erschwerte graphische Darstellbarkeit.

- (3) Die **graphische Darstellung** in Form von ebenen Kurven unter Verwendung von Schnittebenen und die Projektion der Schnittkurven in die Koordinatenebenen. Bei dieser praktischen Darstellungsweise geht einerseits die räumliche Vorstellung zugunsten von ebenen Widerspiegelungen bestimmter Eigenschaften der räumlichen Flächen, die mathematischen Betrachtungen leichter zugänglich wird, verloren. Andererseits ist es möglich, aus den ebenen Darstellungen der in die Koordinatenebenen projizierten Schnittkurven ein räumliches Bild der Funktionsfläche zu entwickeln. Aus diesem Grunde bilden geometrische und graphische Darstellung meist eine Einheit.
- (4) Die **nomographische Darstellung** in Form von Latten- oder Netztafeln unter Verwendung geeigneter Funktionskalen. Bei dieser rationalen Darstellungsweise wird ebenfalls auf Anschaulichkeit verzichtet, die Genauigkeit sowie der Ausbau des Rechenblattes den praktischen Bedürfnissen angepaßt und dafür ein leichtes Ablesen der Zusammenhänge zwischen den einzelnen Variablen ermöglicht.

Auf diese Darstellungsarten sowie ihrer Handhabung wird im weiteren ausführlicher eingegangen.

1.2 Analytische und tabellarische Darstellung

1.2.1 Analytische Darstellung

Bei Beschränkung auf Funktionen zweier unabhängiger Variablen können die folgenden analytischen Darstellungsformen angeführt werden:

- (1) Die **explizite Form**

$$z = f(x, y),$$

- (2) die **implizite Form**

$$F(x, y, z) = 0,$$

- (3) die **Parameterform**

$$x = x(u, v),$$

$$y = y(u, v),$$

$$z = z(u, v),$$

wobei u und v die beiden Parameter bedeuten. Diese Darstellungsform wird vor allem bei der Darstellung von Flächen in der Differentialgeometrie bevorzugt benutzt.

Dabei ist zu beachten, daß nicht jeder Ausdruck in der aufgeführten Form eine Funktion darstellt. Mitunter sind zusätzliche Festlegungen erforderlich, um die Eindeutigkeit der Darstellung zu sichern.

Es ist auch nicht in jedem Falle möglich, von der impliziten in die explizite Form überzugehen.

B Für den Ausdruck

$$z = f(x, y) = \sqrt{25 - x^2 - y^2}$$

sind größtmöglicher Definitionsbereich zu ermitteln und zugehöriger Wertebereich so zu bestimmen, daß $z = \sqrt{25 - x^2 - y^2}$ eine Funktion ist.

Lösung: Für den Definitionsbereich gilt

$$25 - x^2 - y^2 \geq 0.$$

Damit ist z reellwertig. Aus

$$x^2 + y^2 \leq 25$$

erkennt man, daß $D(f)$ aus allen Wertepaaren besteht, die entweder der Kreisfläche oder dem Rand eines Mittelpunktkreises mit dem Radius 5 angehören.

Mit

$$x^2 + y^2 \geq 0$$

und bei Beschränkung auf $z \geq 0$ gilt $0 \leq z \leq 5$ als Wertebereich.

Nach Umformung erhält man

$$x^2 + y^2 + z^2 = 25.$$

Bei Beschränkung auf $z \geq 0$ ist dies die Gleichung einer Halbkugeloberfläche mit $r = 5$ und dem Koordinatenursprung als Kugelmittelpunkt.

Die **Gleichheit von Funktionen** kann bei unterschiedlicher Darstellungsform geprüft werden, indem man Definitionsbereich und Wertebereich miteinander vergleicht.

I Sind zwei Funktionen in verschiedenen Darstellungsformen gegeben, so sind sie einander gleich, falls ihre Definitionsbereiche übereinstimmen und ihre Funktionswerte in allen Punkten des gemeinsamen Definitionsbereiches gleich sind.

B Es ist nachzuweisen, daß die beiden Funktionen

$$x^2 + y^2 + z^2 - 25 = 0, \quad z \geq 0 \quad \text{und}$$

$$z = \sqrt{25 - x^2 - y^2}, \quad z \geq 0$$

gleich sind.

Lösung: Aus $z \geq 0$ folgt im ersten Falle

$$x^2 + y^2 + z^2 - 25 \geq 0$$

und im zweiten Falle dieselbe Ungleichung, da der Radikand nicht negativ sein darf. Somit besitzen beide Funktionen den gleichen Definitionsbereich.

Nach Quadrieren der 2. Gleichung und Einsetzen in die 1. Gleichung erhält man die Identität

$$x^2 + y^2 + (25 - x^2 - y^2) - 25 = 0,$$

womit der Nachweis für die Gleichheit der beiden Funktionen erbracht ist.

Ergänzung:

Für die im Beispiel betrachtete Funktion lautet eine Parameterform

$$\begin{aligned} x &= 5 \sin u \cdot \cos v \\ y &= 5 \sin u \cdot \sin v & -\frac{\pi}{2} \leq u \leq \frac{\pi}{2}, \quad 0 \leq v \leq 2\pi \\ z &= 5 \cos u. \end{aligned}$$

Gibt man dies in die implizite Form ein, so erhält man

$$\begin{aligned} &25(\sin^2 u \cos^2 v + \sin^2 u \sin^2 v + \cos^2 u) - 25 \\ &= \sin^2 u(\sin^2 v + \cos^2 v) + (1 - \sin^2 u) - 1 = 0, \end{aligned}$$

womit die Übereinstimmung der Funktionswerte für den gesamten Definitionsbereich nachgewiesen ist.

Die analytische Darstellung von Funktionen ist eng mit ihrer Veranschaulichung, der geometrischen Darstellung, verknüpft, die im nächsten Abschnitt weiter ausgehandelt wird.

1.2.2 Tabellarische Darstellung

Eine **Funktions- oder Wertetabelle** für eine Funktion zweier unabhängiger Variablen erhält man, indem für die unabhängigen Variablen Werte aus dem Definitionsbereich eingesetzt und die zugehörigen Funktionswerte ermittelt werden.

Die Ergebnisse können in tabellarischer Form übersichtlich angeordnet werden. Dazu werden in der ersten Zeile und in der ersten Spalte Werte für die unabhängigen Variablen notiert und in der jeweiligen Schnittstelle von Zeile und Spalte der zugehörige Funktionswert eingetragen (s. Tab. 1.1). Dabei bedeutet $z_{ik} = f(x_i, y_k)$, $i = 1, 2, \dots, n$, $k = 1, 2, \dots, m$.

Tab. 1.1: Funktionstabelle für $z = f(x, y)$

y	y_1	y_2	y_m
x_1	z_{11}	z_{12}	z_{1m}
x_2	z_{21}	z_{22}	z_{2m}
\vdots	\vdots	\vdots	\vdots
x_n	z_{n1}	z_{n2}	z_{nm}

Anmerkung: Die Anordnung der z_{ik} in einem derartigen Schema von n Zeilen und m Spalten nennt man eine **Matrix**, insbesondere eine (n, m) -Matrix.

Während aus einer Wertetabelle für eine Funktion einer unabhängigen Variablen meist unmittelbar auf die Gestalt des Graphen der Funktion geschlossen werden kann, ist dies das Bild einer Funktion zweier unabhängiger Variablen als Fläche im \mathbb{R}^3 , und die Anschauung (ist nur durch weitere Betrachtungen möglich. Dies soll am folgenden Beispiel erläutert werden.

Ⓘ) Durch welche Fläche im Raum kann die Funktion

$$z = 5 - \frac{5}{4}x - \frac{5}{3}y \quad \text{mit} \quad x \geq 0, y \geq 0, z \geq 0$$

veranschaulicht werden?

Lösung: Beim Aufstellen einer Funktionstabelle werden zunächst positiv ganzzahlige Werte für x und y zugrunde gelegt. Man erhält folgende Tabelle:

$y \backslash x$	0	1	2	3	4
0	5	$\frac{10}{3}$	$\frac{5}{3}$	0	-
1	$\frac{15}{4}$	$\frac{25}{12}$	$\frac{5}{12}$	-	-
2	$\frac{10}{4}$	$\frac{10}{12}$	-	-	-
3	$\frac{5}{4}$	-	-	-	-
4	0	-	-	-	-
5	-	-	-	-	-

In den durch einen Strich gekennzeichneten Feldern ist z nicht erklärt, da für die zugehörigen Wertepaare die Voraussetzung $z \geq 0$ verletzt ist.

Es ist ersichtlich, daß man sich auf Werte $x \in [0, 4]$ und $y \in [0, 3]$ beschränken muß.

Die Funktionstabelle wird übersichtlicher, wenn man alle interessierenden Funktionswerte einheitlich darstellt, in diesem Falle durch Brüche mit dem Nenner 12.

$y \backslash x$	0	1	2	3
0	$\frac{60}{12}$	$\frac{40}{12}$	$\frac{20}{12}$	0
1	$\frac{45}{12}$	$\frac{25}{12}$	$\frac{5}{12}$	-
2	$\frac{30}{12}$	$\frac{10}{12}$	-	-
3	$\frac{15}{12}$	-	-	-
4	0	-	-	-

Man erkennt, daß z eine lineare Funktion von y ist, wenn man für x konstante Werte einsetzt. Dem entsprechen Kurven $z = f(y)$ in Ebenen $x = \text{const}$.

Für $z = 0, 1, 2, 3, 4$ erhält man der Reihe nach

$$z = 5 - \frac{5}{3}y$$

$$z = \frac{15}{4} - \frac{5}{3}y$$

$$z = \frac{10}{4} - \frac{5}{3}y$$

$$z = \frac{5}{4} - \frac{5}{3}y$$

$$z = -\frac{5}{3}y.$$

Die Graphen dieser Funktion sind unter Berücksichtigung von $y \geq 0$ und $z \geq 0$ in der folgenden y, z -Ebene dargestellt; an den Geraden ist der zugehörige konstante z -Wert vermerkt (s. Abb. 1.6).

Aus dieser etwas aufwendigen geometrischen Interpretation ist erkennbar, daß das Bild der Ausgangsfunktion ein räumliches Dreieck mit den Eckpunkten $A(4; 0; 0)$, $B(0; 3; 0)$, $C(0; 0; 5)$ ist (s. Abb. 1.7). Etwas leichter erkennt man die Zusammenhänge, wenn man die Funktionsgleichung in der Form

$$\frac{x}{4} + \frac{y}{3} + \frac{z}{5} = 1$$

schreibt, da dadurch für konstante z -Werte Achsenabschnittsgleichungen von Geraden entstehen:

- ▷ Die damit verbundene Methode wird im folgenden Abschnitt 1.3 vorgestellt. Sie besteht in der bereits eingangs erwähnten Projektion von Schnittkurven in Koordinatenebenen. Im betrachteten Beispiel waren es die Schnittkurven der Funktionsfläche mit den Ebenen $x = \text{const}$ und ihre Projektion in die y, z -Ebene. Insbesondere ist der Punkt $P(y = 0, z = 0)$ in Abb. 1.6 die Projektion der Schnittkurve der Ebene $x = 5$ mit der Funktionsfläche in die y, z -Ebene, die durch den Ursprung des Koordinatensystems verläuft. In entsprechender Weise hätten auch Betrachtungen mit den Ebenen $y = \text{const}$ und $z = \text{const}$ angestellt werden können.

1.3 Geometrische Darstellung

Bereits an früherer Stelle wurde ausgeführt, daß durch $z = f(x, y)$ jedem geordneten Wertepaar (x, y) eindeutig ein Wert z zugeordnet wird und damit jedes geordnete Wertetripel (x, y, z) durch einen Bildpunkt $P(x, y, z)$ veranschaulicht werden kann. Die Gesamtheit aller Bildpunkte bezeichnet man als **Bild der Funktion** oder als Funktionsfläche. Es ist eine Fläche im Raum¹, deren Projektion in die x, y -Ebene mit dem Definitionsbereich der Funktion übereinstimmt (s. Abb. 1.8). Die Darstellung einer Fläche im Raum ist eng mit dem zugrundegelegten Koordinatensystem verbunden, von dem

¹Falls nicht anders vorgeordnet, wird im weiteren Sinne „Raum“ stets der dreidimensionale Raum verstanden, der auch mit B_3 bezeichnet wird.